

全国高等教育成人考试

历史地理综合

仿真试题演练(一)

(考试时间 120 分钟)

题号	一	二	总分	
题分	80	70	核分人	
得分			复查人	

第 I 部分 选择题(80 分)

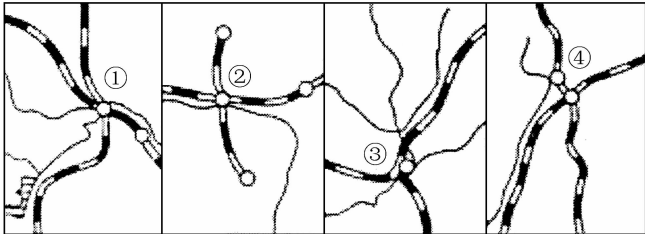
得分	评卷人

一、选择题:1~40 小题,每小题 2 分,共 80 分。在每小题给出的四个选项中,选出一个最符合题目要求的,将其代码填写在题后的括号内,错选、多选或未选均无分。

- 战国时期的商鞅变法发生在 ()
A. 齐国 B. 秦国
C. 燕国 D. 赵国
- 我国开始有文字可考的历史源于 ()
A. 夏朝 B. 商朝
C. 晋国 D. 西周
- 我国历史上号称“百家争鸣”的格局形成于 ()
A. 楚国 B. 春秋战国
C. 商朝 D. 西周
- 《清明上河图》描绘的是北宋_____都城的商业繁荣景象。 ()
A. 东京 B. 北京
C. 长安 D. 临安
- _____中增设天津为通商口岸。 ()
A. 《马关条约》 B. 《天津条约》

- C. 《北京条约》 D. 《南京条约》
- 19 世纪末,我国的资产阶级维新派以_____作为施政纲领。 ()
A. 《应诏统筹全局折》 B. 《变法通议》
C. 《资政新篇》 D. 《孔子改制考》
- _____口号最能够反映五四运动的性质。 ()
A. “惩办卖国贼” B. “外争国权,内惩国贼”
C. 废除“二十一条” D. “还我青岛”
- _____是我国彻底废除封建剥削土地制度的标志。 ()
A. 三大改造完成
B. 十一届三中全会的召开
C. 新中国成立
D. 土地改革基本完成
- _____年,我国制定了第一部社会主义类型的宪法。 ()
A. 1950 B. 1951
C. 1953 D. 1954
- _____项目是在第一个五年计划期间完成的。 ()
A. 长春第一汽车制造厂建成投产
B. 大庆油田建成并采油
C. 南京长江大桥建成并通车
D. 北京地铁建成并通车
- _____年,我国石油实现基本自给。 ()
A. 1966 B. 1963
C. 1968 D. 1969
- _____年,邓小平同志提出:“教育要面向现代化,面向世界,面向未来。” ()
A. 1979 B. 1981
C. 1983 D. 1985
- 新航路开辟的根本原因是 ()
A. 欧洲商业危机
B. 商品经济在欧洲的发展与资本主义萌芽
C. 地圆说的应用
D. 指南针的应用

14. _____在 1789 年的法国大革命中被推翻。 ()
- A. 路易十六 B. 查理一世
C. 路易十八 D. 查理二世
15. 以下作品出自但丁的是 ()
- A. 《最后的晚餐》 B. 《蒙娜丽莎》
C. 《亨利五世》 D. 《神曲》
16. 在帝国主义瓜分非洲的过程中, _____是侵占非洲领土最多的国家。 ()
- A. 法国 B. 意大利
C. 英国 D. 德国
17. _____是第一次世界大战爆发的导火索。 ()
- A. 曹里曹拉事件 B. 密拉特事件
C. 萨拉热窝事件 D. 波士顿倾茶事件
18. 以下哪一项是苏联社会主义基本制度确定的标志? ()
- A. 工业化完成
B. 新经济政策实施
C. 苏联新宪法的颁布
D. 第八次苏维埃代表大会召开
19. 新中国外交政策成熟的标志是 ()
- A. 提出求同存异的方针
B. 提出反对霸权主义的主张
C. 提出和平共处五项原则
D. 提出三个世界划分的理论
20. 世界上层次最高的经济一体化组织是 ()
- A. 亚太经济组合 B. 金砖四国
C. 欧洲联盟 D. 东盟
21. 下表是我国甲、乙两地某日的日出、日落时间(北京时间), 据此判断甲地的方位位于乙地的 ()
- | 城市 | 日出时间 | 日落时间 |
|----|------|-------|
| 甲 | 5:28 | 19:00 |
| 乙 | 7:23 | 20:27 |
- A. 东北方向 B. 180 度经线
C. 东经 90 度 D. 西经 90 度

22. 秋分日, 当本初子午线正值日出的时候, 地球上日落的地方是 ()
- A. 0 度经线 B. 180 度经线
C. 东经 90 度 D. 西经 90 度
23. _____水循环使得陆地上的水不断得到补充。 ()
- A. 内陆 B. 海上
C. 海陆间 D. 地球
24. 下图中四个城市正确排序是 ()
- 
- A. 包头、重庆、武汉、太原
B. 包头、武汉、太原、重庆
C. 重庆、武汉、包头、太原
D. 武汉、包头、重庆、太原
25. 我国北方采用的“温室大棚”种菜方式, 改善了 _____条件 ()
- A. 光照 B. 土壤
C. 水分 D. 热量
26. 下列各项要求中与地面获得太阳辐射能的多少成正比的是 ()
- A. 太阳高度角 B. 各地纬度位置
C. 大气的厚度 D. 各地空气温度
27. 非洲和亚洲的分界线是 ()
- A. 巴拿马运河 B. 高加索山脉
C. 阿尔卑斯山脉 D. 苏伊士运河
28. 以下气候南、北美洲均没有的是 ()
- A. 热带季风气候 B. 热带沙漠气候
C. 温带海洋性气候 D. 地中海气候
29. 以下自然带包含两种气候类型的是 ()
- A. 热带雨林带 B. 温带落叶阔叶林带
C. 温带草原带 D. 亚寒带针叶林带

密封线内不要答题

题
答
要
不
内
线
封
密

30. 地球上出现四季更替现象的根本原因是 ()
- A. 地球是椭球体
B. 地球围绕太阳转动的速度不均匀
C. 地球绕日运动与黄赤交角的作用
D. 地球的自转
31. 以下高原受水流的侵蚀作用最强的是 ()
- A. 青藏高原
B. 云贵高原
C. 内蒙古高原
D. 黄土高原
32. 我国以地下水和冰雪融水作为水源的灌溉农业区是 ()
- A. 松嫩平原
B. 河西走廊
C. 淮河平原
D. 黄土高原
33. 位于我国北方的四大佛教名山是 ()
- A. 华山
B. 泰山
C. 五台山
D. 九华山
34. 作为发展中国家,我国粮食产量增加的最有效途径是 ()
- A. 增加农业补贴,加大化肥和农药用量
B. 大面积开垦荒地
C. 引进市场机制,发展订单农业
D. 科技兴农,走可持续发展道路
35. 海洋表层洋流的动力主要来自 ()
- A. 地转偏向力
B. 海水密度差异
C. 岩浆活动
D. 大气运动和行星风系
36. 形等高线向低值方向凸出时,其地形区是 ()
- A. 陡崖
B. 山脊
C. 山谷
D. 鞍部
37. 下列各组山脉中,属于省区分界线并且处于我国地势第三阶梯上的是 ()
- A. 巫山、大巴山
B. 贺兰山、阿尔卑斯山
C. 巫山、太行山
D. 大兴安岭、横断山
38. 目前世界粮食产量最高的是 ()
- A. 南美洲
B. 亚洲
C. 欧洲
D. 北美洲
39. 修建水库易引起的环境问题是 ()
- A. 酸雨
B. 土地盐碱化

- C. 水污染
D. 空气污染
40. 核电、沼气、地热、太阳能的共同点是 ()
- A. 全都为新能源
B. 都是一次能源
C. 都是可再生能源
D. 都是不可再生能源

第 II 部分 非选择题(70 分)

得 分	评卷人

二、非选择题:41~46 小题,共 70 分。

41. 阅读材料,回答问题。(10 分)

材料一:革命导师并不认为自己提出的理论是已经完成了的绝对真理或“顶峰”,可以不受实践检验;他们处处时时用实践来检验自己的理论、诊断、指示。

——摘自《实践是检验真理的唯一标准》

材料二:有一些同志天天讲毛泽东思想,却往往忘记、抛弃甚至反对毛泽东同志的实事求是、一切从实际出发、理论与实践相结合的这样一个马克思主义的根本观点……他们的观点,实质上是主张照抄马克思、列宁、毛泽东同志的原话,照抄照转照搬就行了。

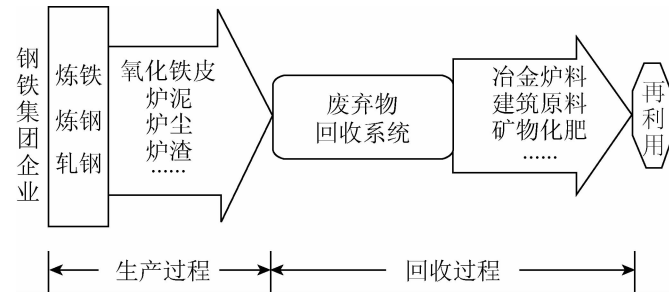
——摘自 1978 年 6 月 2 日邓小平在全国政治工作会议上的讲话

概述真理标准问题大讨论的内容及意义。

42. 试述英国工业革命的主要成就。(9分)

43. 简述苏维埃政权建立初期实行的内外措施。(9分)

44. 下图为“钢铁工业生产与废弃物回收模式图”,读图并回答下列问题:(7分)



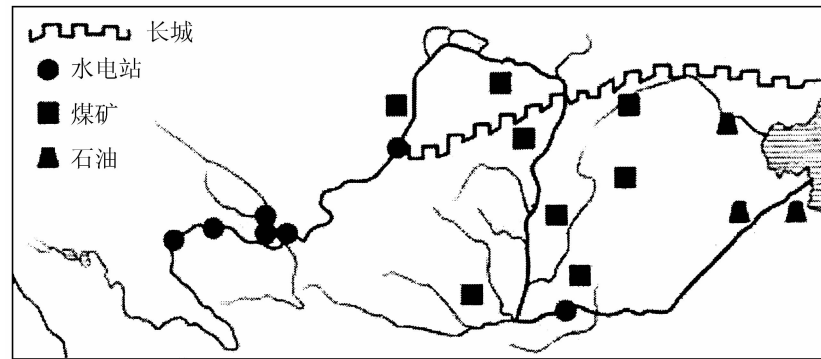
(1) 读图说出钢铁工业在生产过程中可能带来的污染为_____、_____、_____。

(2) 目前钢铁工业减少资源、能源消耗和环境污染的措施有_____ (填选项字母)。

- A. 提高资源和能源利用率
- B. 减少排放废弃物并进行无害化处理
- C. 进行废弃物再生利用
- D. 大幅度增加钢铁替代品

(3) 可持续发展包括_____、_____和_____的可持续发展。

45. 下图为黄河流域图,读图并回答下列问题:(7分)



历史地理综合仿真试题演练(一)

(1) 黄河流域有丰富的能源,其上中游是“西电东送”北线的能源输出地,上游提供的能源以_____为主;中游地区分布着丰富的_____资源;下游地区分布的主要能源是_____。

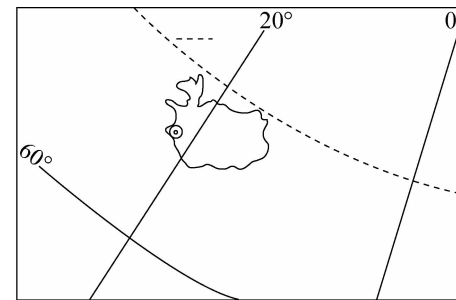
(2) 在黄河上游有两个著名的灌溉农业区,在这些地区如果水资源使用不当,容易引发的生态问题是_____ (填选项字母)。

- A. 酸雨
- B. 土壤次生盐碱化
- C. 赤潮
- D. 下游水资源短缺

(3) 图中长城一线是我国北方农牧过渡带的一部分。调查显示:近300年来,该过渡带荒漠化情况最为严重,其自然原因是_____ ;人为原因是_____。

(4) 解决荒漠化问题必须走_____ 之路。

46. 读下图,回答问题:(9分)



(1) 此岛以东是_____ 半球,以西是_____ 半球。

(2) 此岛地处_____ 板块和_____ 板块的交界处,此处的板块边界类型是_____ 边界。

(3) 此岛以西隔丹麦海峡与_____ 洲相望;附近有_____ 和_____ 经过。

历史地理综合仿真试题演练(一)

密封线内不要答题